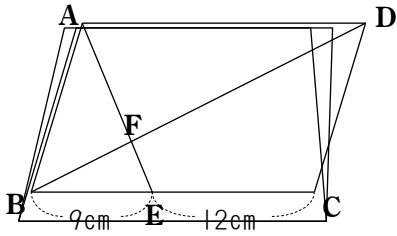
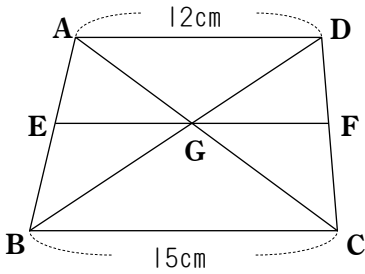


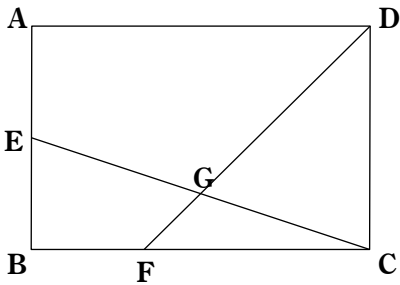
(1) 下の図において、四角形CDFEは平行四辺形ABCDの何分のいくつですか。



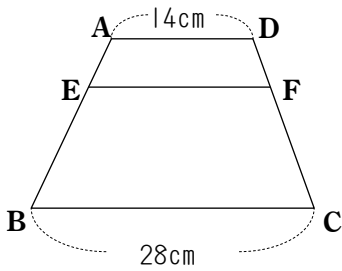
(2) 下の図において、 $\triangle BGC$ と $\triangle AEG$ の面積の比を求めなさい。



(3) $AE:EB=1:1$, $BF:FC=1:2$ のとき、 $\triangle GFC$ は平行四辺形ABCDの何分のいくつですか。



(4) 下の図の台形ABCDにおいて $AE:EB=2:5$ のとき、EFの長さを求めなさい。



(5) 平行四辺形ABCDにおいて $AE:EB=5:3$, $AF:FD=5:2$ のとき、 $BH:HG:GD$ を求めなさい。

