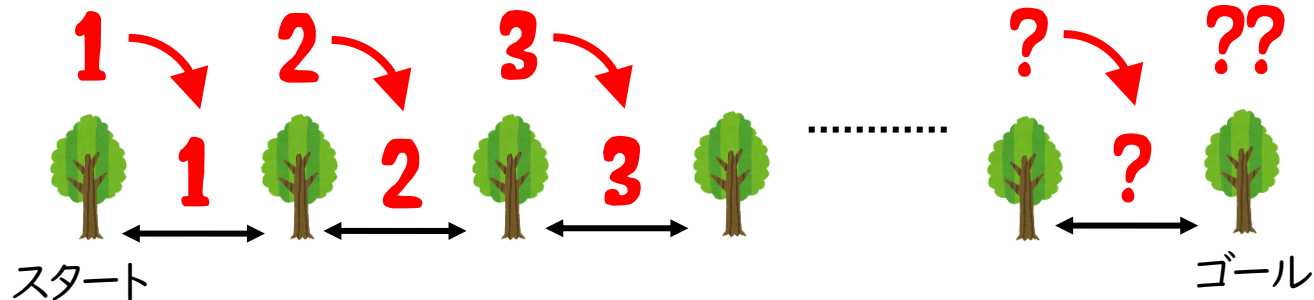


植木算は

# 数を書き入れよう

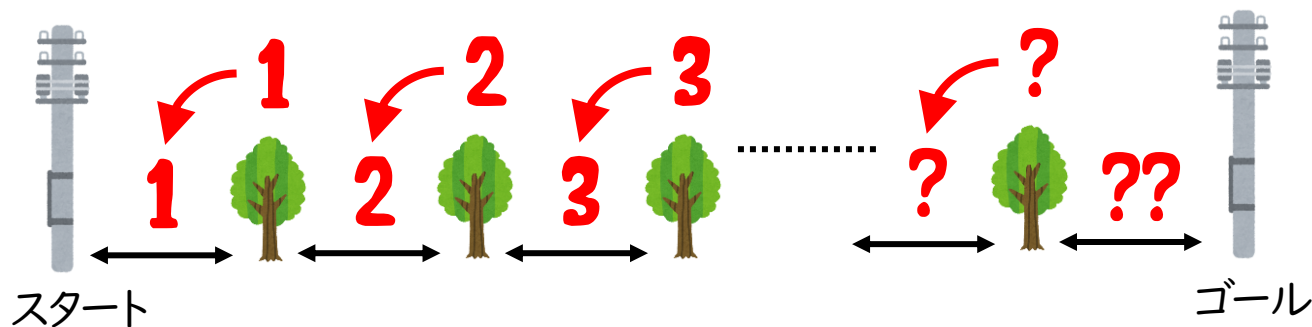
## ① 両端をふくむパターン



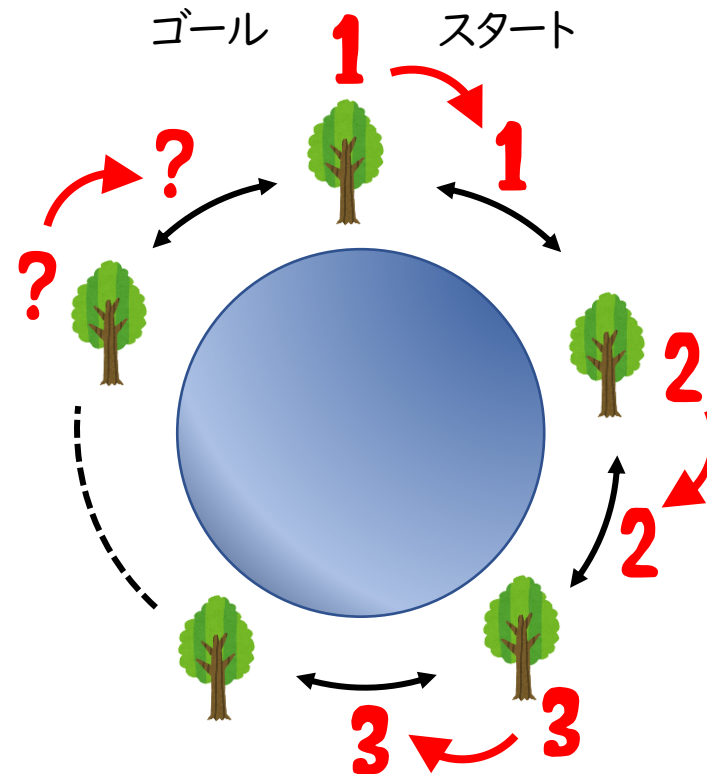
木とセットになる間(↔)に  
同じ数字を書こう!

- ? 木の数と間の数(↔)はどっちが多いかな。
- ? 木の数が10本するとき、間の数はいくつかな。
- ? 間数が10本するとき、木の数はいくつかな。

## ② 両端をふくまないパターン



## ③ ぐるっと1周パターン



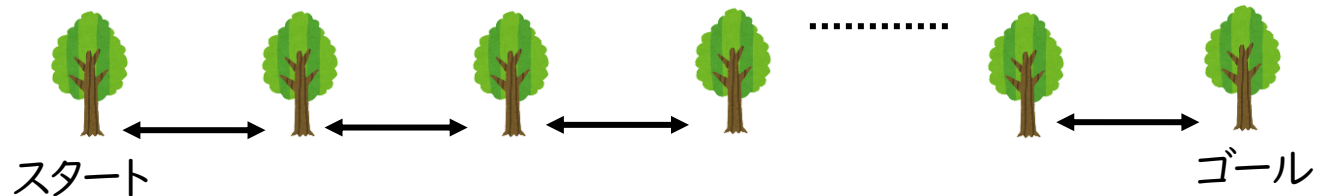
## まとめ

木の数とくらべて

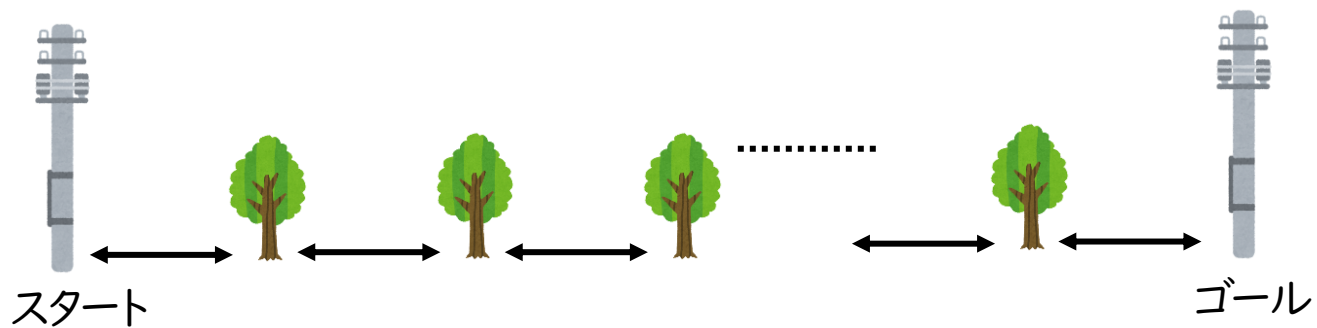
- ① 両端をふくむパターン → 間数は1つ少ない。
- ② 両端をふくまないパターン → 間数は1つ多い。
- ③ ぐるっと1周パターン → 間数も等しい。

# 数を書き入れる練習をしよう

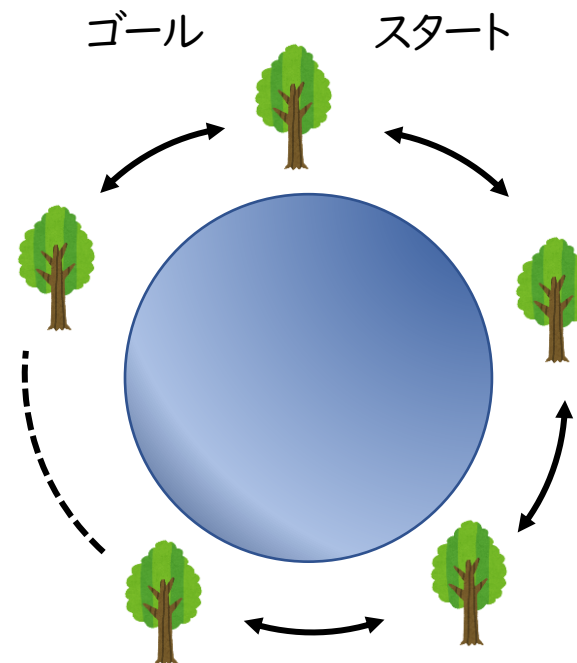
## ① 両端をふくむパターン





## ② 両端をふくまないパターン



## ③ ぐるっと1周パターン



-  問題を解くときに困ったら  
3番目ぐらいまで図を書いて調べてみよう。
-  1つ多い、1つ少ないと覚えるより  
調べながら規則をつかめるようにしよう。